




Documentos complementarios

Itinerario: Ruta del Castillo Árabe

- O – Punto de encuentro:** Camino del Molino de los García (entre “Las Naves” y el paso bajo la carretera)
- I – 1ª Parada: Entrada al parque de los Cerros.** Breve explicación del recorrido y de los aspectos a tener en cuenta (peligrosidad de algunos tramos, paradas a realizar, punto de avituallamiento, etc.)
- II – 2ª parada: Mirador sobre la isla de los García.** Aspectos biogeográficos del parque y del entorno de Alcalá (Vegetación, fauna, río Henares), y valoración de las actividades humanas tradicionales (agricultura, molinos, explotación de arcillas, etc.) y del impacto antrópico a través de la vista del vertedero actual y el clausurado sobre el que nos encontramos.
- III – 3ª Parada: Camino/senda de la Tabla Pintora,** sobre los cortados del río, con ejemplos de erosión remontante en barrancos.
- IV – 4ª Parada: Parte alta de la senda hacia Alcalá la Vieja.** Vegetación de ribera y vista de los cortados sobre el río Henares y el pedimento correspondiente al nivel de la 3ª terraza de la margen derecha del río.
- V – 5ª Parada: Ruinas de Alcalá la Vieja.** Explicación histórica y geográfica del lugar. Desarrollo urbanístico de Alcalá y valoración de usos del suelo.
- O – Regreso por detrás del cerro Malvecino.** Nos adentramos en el interior del parque y descendemos por el **Barranco de la Zarza**, con vistas a las vaguadas y barrancos circundantes y a la vegetación de repoblación del parque, y valoración de la acción humana en el mismo.

Características del recorrido

- Tipo de Ruta: Circular.  Punto de encuentro a Entrada en el Parque.  Ida.  Regreso.
- Distancia: 8 km ida y vuelta
- Desde el aparcamiento del Parque Natural de Los Cerros, tomar la pista que sale del aparcamiento y que está señalizada con postes pintados de azul en su extremo. Esta pista nos lleva andando tranquilamente en menos de una hora hasta los restos de una fortaleza de época islámica que domina el río Henares y los arrabales alcalaíños adyacentes a la ermita de Nuestra Señora del Val, que utilizaremos como referencia para descubrir el punto exacto donde se halla el castillo.



Guión de actividades:

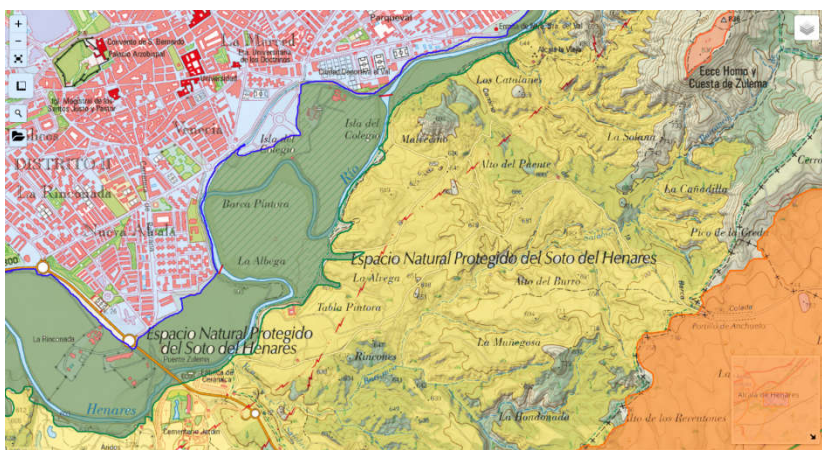
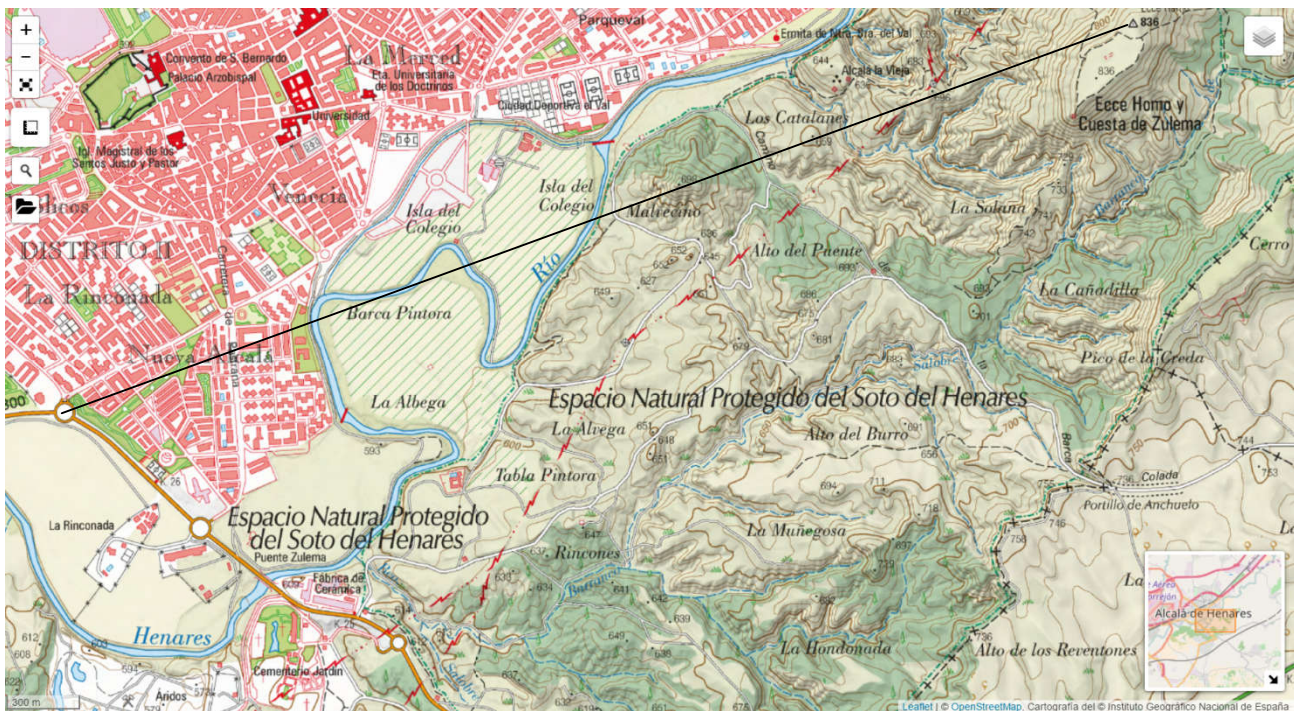
1. Resume e integra en un escrito (máx. 1 folio), las ideas más relevantes sobre todo lo que se ha ido exponiendo durante el recorrido en cuanto a los siguientes aspectos:

- Unidades y formas de relieve visibles. Dinámica geomorfológica.
- Biogeografía (formaciones vegetales dominantes, dinámica fluvial, suelos, etc.)
- Usos del suelo (agricultura, uso industrial y terciario, residencial, etc.)
- Historia de la ocupación e impacto humano sobre el medio.

Puedes hacer fotografías de cada uno de los aspectos indicados para adjuntar al informe.

2. A partir del mapa topográfico adjunto y de la línea en él marcada, elabora un perfil topográfico señalando algunos de los aspectos y unidades anteriores.

3. Desde algún punto elevado (preferiblemente desde el cerro de Alcalá la Vieja), obtén una fotografía del valle del Henares que te permita establecer y analizar las distintas unidades del paisaje visibles.



Mapa con la distribución de las distintas unidades geomorfológicas y de usos del suelo generales (en tono malva claro, la ciudad de Alcalá), en verde la vega inundable del Henares, en amarillo y verde claro, la cuesta del páramo, y en marrón claro, el páramo.